

Vous réaliserez ce commentaire de documents sous une **forme rédigée** (incluant la production graphique demandée). L'ensemble tiendra sur une copie **recto-verso maximum**.

QUESTIONS

- 1) Présentez succinctement les quatre documents (sans aborder le détail des contenus).
- 2) Réalisez un croquis légendé du document 3b (le document 3a peut aider).
- 3) Indiquez les atouts de la situation géographique de la localité de La Chapelle Saint-Ursin à l'aide du document 2.
- 4) Rendez compte de l'évolution globale de la localité de La Chapelle Saint-Ursin à l'aide de l'ensemble documentaire. Caractérissez ainsi sa position par rapport au phénomène urbain berruyer (de Bourges).

Document 1

La Chapelle-Saint-Ursin

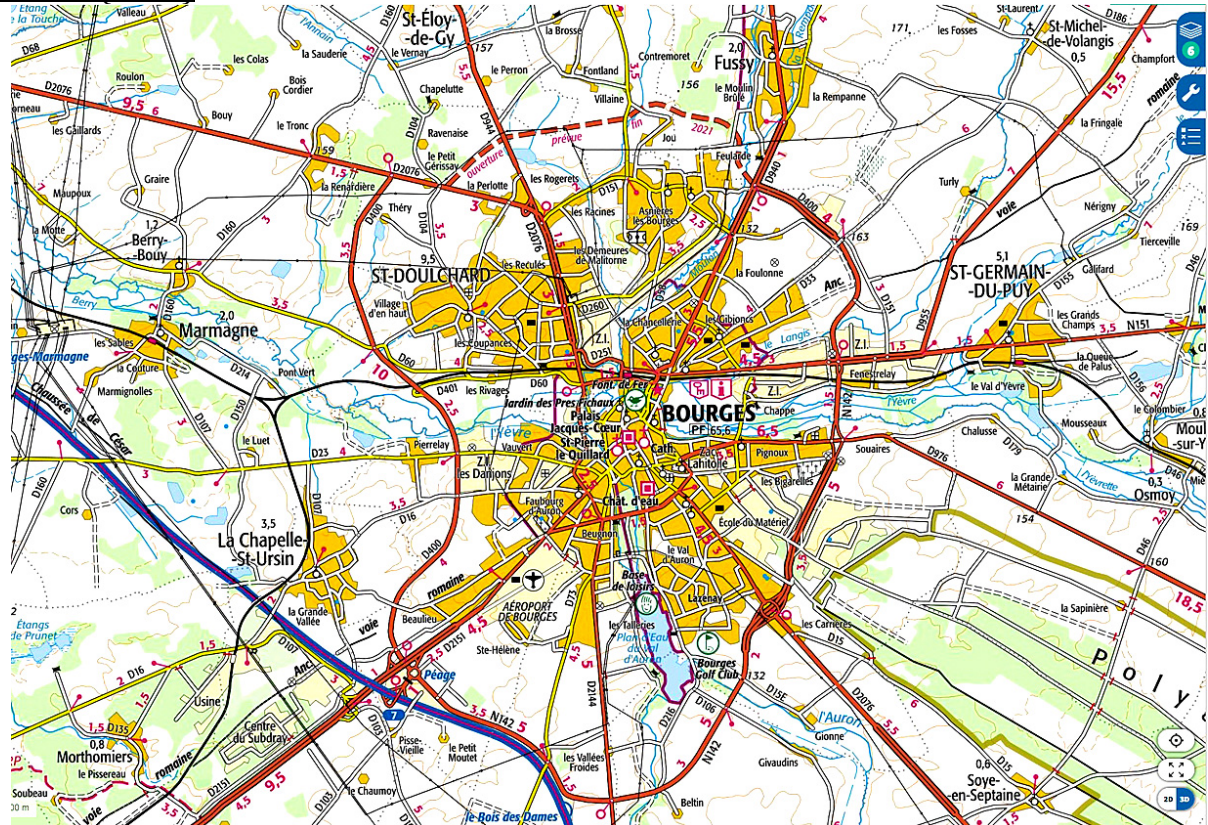


Église Saint-Ursin.

Administration	
Pays	France
Région	Centre-Val de Loire
Département	Cher
Arrondissement	Bourges
Intercommunalité	Communauté d'agglomération Bourges Plus

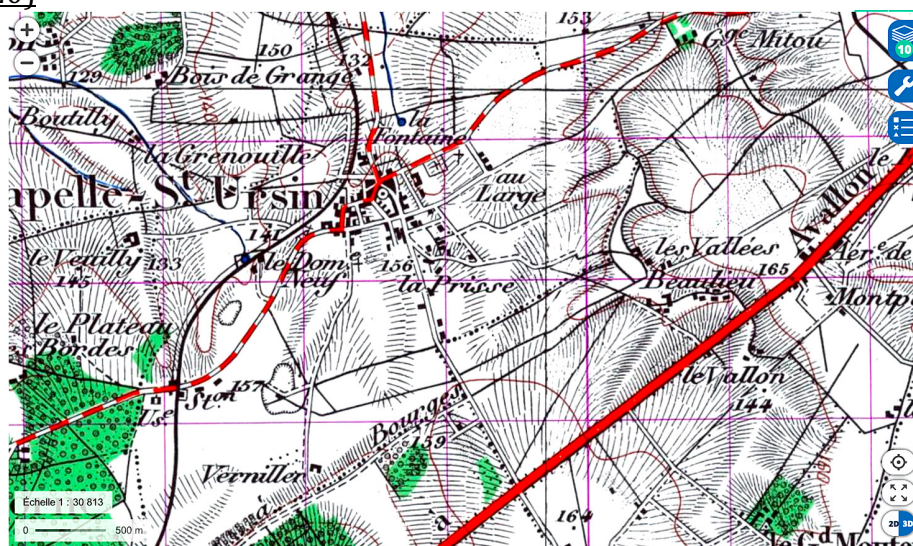
Source : https://fr.wikipedia.org/wiki/La_Chapelle-Saint-Ursin

Document 2 (2020)



Source : <https://www.geoportail.gouv.fr/carte> (entrée : « La Chapelle Saint-Ursin »)

Documents 3a (1950) et 3b (2020)



b (2020)

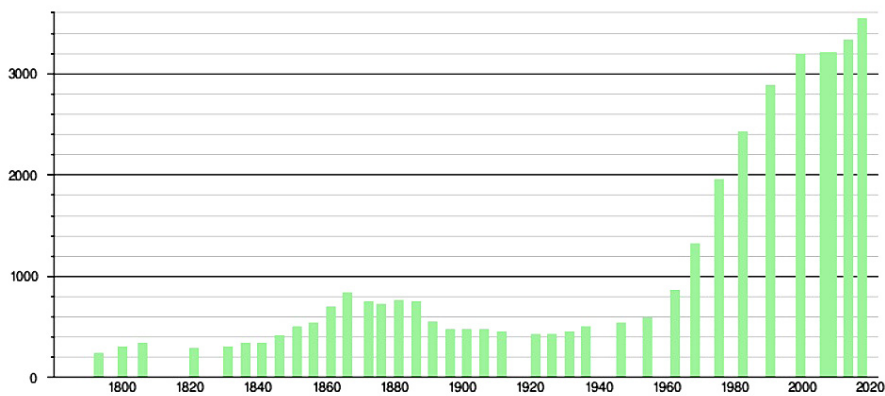
a (1950) ->



Source : <https://www.geoportail.gouv.fr/carte> (entrée : « La Chapelle Saint-Ursin »)

Document 4

Histogramme de l'évolution démographique



Sources : base Cassini de l'EHESS et base Insee.

Source : https://fr.wikipedia.org/wiki/La_Chapelle-Saint-Ursin

Ressources sur l'ENT - UE12 EC2 TD6 « [TD6 Habiter en Ville](#) [Diaporama](#) [Phénomène Urbain](#) »

--> **Retour** à la rentrée de novembre lundi 2 novembre (TD) ou **mercredi 4 novembre (TD) au plus tard**